

# TABLERO DE SELECCIÓN FAMILIAR DE 3ER GRADO

## LITERACY

### FONÉTICA

SUFIJO: -ship: estado o condición; Ej: leadership (liderazgo)

Utiliza el sufijo -ship para crear al menos 3 palabras.

Utiliza una de las palabras en una frase.

### FLUIDEZ

LEE EL SIGUIENTE POEMA ENLAZADO:

"MARCH" (MARZO)

LÉELE EL POEMA EN VOZ ALTA A UN MIEMBRO DE LA FAMILIA.

### VOCABULARIO

Escucha en línea el cuento *The Keeping Quilt* enlazado [AQUÍ](#).

Busca palabras interesantes. Ej: *tradition* (tradición).

¡Busca 2 más!

### COMPRENSIÓN

LEE EN VOZ ALTA UN LIBRO O UN CAPÍTULO DE UN LIBRO.

DESPUÉS DE LEER, RESÚMELE LA HISTORIA A TU PELUCHE, A UN AMIGO O A UN FAMILIAR.

### INVESTIGACIÓN

ESTE TRIMESTRE HEMOS ESTADO INVESTIGANDO SOBRE MISOURIANOS FAMOSOS. UTILIZA [ESTE SITIO WEB](#)

PARA INVESTIGAR SOBRE BUCK O'NEIL.

¿CUÁLES FUERON ALGUNAS DE LAS MAYORES CONTRIBUCIONES DE O'NEIL?

# MARZO



# TABLERO DE SELECCIÓN FAMILIAR DE 3ER GRADO

## MATEMÁTICAS

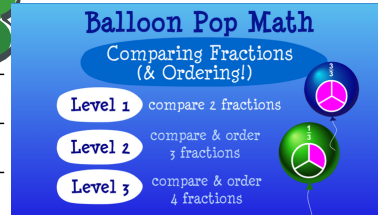
### DIVISIÓN

Necesitas una baraja de cartas  
Go Fish (Te toca robar) - División  
Utilizando una baraja de cartas,  
mantén en juego sólo las cartas del  
1-al 10. Cada jugador recibe 6  
cartas. El resto va a un montón de  
robo.

El jugador 1 le pregunta al jugador  
2: "¿Tienes 12 ÷ 4?".  
Si el Jugador 2 tiene un 3, entonces  
le dará la carta al Jugador 1. Gana  
el jugador con más aciertos.

### JUEGOS

JUEGA A ESTE JUEGO EN LÍNEA  
PARA PRACTICAR FRACCIONES  
EN UNA RECTA NUMÉRICA



**Balloon Pop Math**  
Comparing Fractions (& Ordering!)

- Level 1 compare 2 fractions
- Level 2 compare & order 3 fractions
- Level 3 compare & order 4 fractions

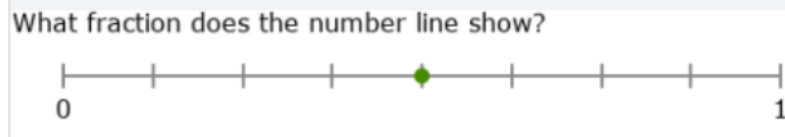
### SOLUCIÓN DE PROBLEMAS

Elabora un problema de  
palabras que incluya una  
situación de la vida real en la  
que se utilice la multiplicación.  
Incluye tu nombre, el de un  
amigo o el de un familiar.

(Ej: Kim tiene 4 bolsas de  
caramelos. Cada bolsa contiene 7  
caramelos. ¿Cuántos caramelos  
tiene en total?)

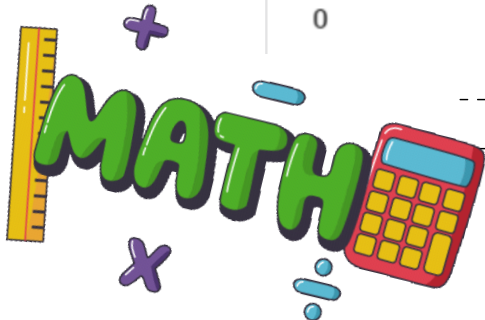

### DETECTIVES DE NUMEROS

¿Qué fracción está  
representada en la recta  
numérica de abajo?



### MATEMÁTICAS ALREDEDOR NUESTRO

¿Qué fracción de la pizza se ha  
comido? ¿Puedes nombrar una  
fracción equivalente para esta  
porción?



MARZO