

# TABLERO DE SELECCIÓN FAMILIAR DE 4º GRADO

## ALFABETIZACIÓN

### MORFOLOGÍA

#### RAÍZ GRIEGA

GRAPH = ESCRIBIR

MICRO = PEQUEÑO

PIENSA EN TODAS LAS  
PALABRAS QUE PUEDAS QUE  
TENGAN ESTAS RAÍCES – EJ:  
PÁRRAFO Y MICROSCOPE

### FLUIDEZ

LEE EL POEMA EN VOZ  
ALTA A LOS MIEMBROS DE  
LA FAMILIA.

LA BATALLA DE  
MEDIANOCHE DE UN GATO

### VOCABULARIO

#### ESCUCHA

"ESTOY AGRADECIDO"

ENLAZADO [AQUI](#)

ESCUCHA LAS  
PALABRAS INTERESANTES

EJ:

RECETA

¡ENCUENTRA 2 MÁS!

### COMPRENSIÓN

LEE EL PASAJE  
ROSTROS DE PIEDRA


¿CÓMO SE UTILIZARON LAS GÁRGOLAS  
UTILIZADAS PARA EVITAR LA  
LA EROSIÓN?  
¿QUÉ USAMOS AHORA  
QUE SEA SIMILAR?

### ESCRITURA

PRIMERAS FRASES  
FAVORITAS

LEER LAS PRIMERAS FRASES  
CÉLEBRES

ELIGE UNA FAMOSA  
PRIMERA FRASE.  
LUEGO ESCRIBE UNA HISTORIA  
QUE COMIENCE CON ESA  
FRASE.



# NOVIEMBRE

# TABLERO DE SELECCIÓN FAMILIAR DE 4º GRADO MATEMÁTICAS

## MULTIPLICACIÓN

NECESITAS UN JUEGO DE CARTAS



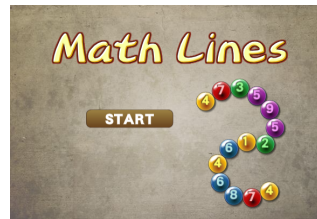
GUERRA DE MULTIPLICACIONES

CADA JUGADOR DA LA VUELTA A UNA CARTA.  
 LA PERSONA QUE DIGA EL PRODUCTO  
 DE LAS DOS CARTAS PRIMERO,  
 GANA LA RONDA.  
 EL JUGADOR QUE TENGA MÁS  
 CARTAS AL FINAL GANA

## JUEGOS

JUEGA A ESTE [JUEGO EN LINEA](#)

PARA PRACTICAR LA  
 MULTIPLICACIÓN



## SOLUCIÓN DE PROBLEMAS

LA FAMILIA DE JADEN  
 VIAJÓ 384 MILLAS PARA  
 VER A SU FAMILIA. HAN  
 HECHO ESTO DURANTE LOS  
 ÚLTIMOS 4 AÑOS.

¿CUÁNTAS MILLAS HA VIAJADO LA  
 FAMILIA DE JADEN EN LOS  
 4 AÑOS?

## DETECTIVES DE NUMEROS

$$2 \times 5 =$$

$$2 \times 10 =$$

$$2 \times 50 =$$

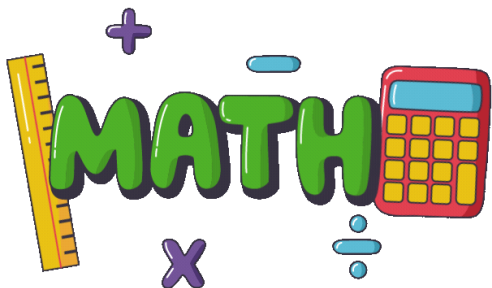
$$2 \times 100 =$$

## MATEMÁTICAS ALREDEDOR NUESTRO

MIRA ESTA CAJA DE LÁPICES.



TU MAESTRO TOMA ESTA  
 CAJA DE LÁPICES Y LOS  
 COLOCA EN 12 GRUPOS  
 DE 15 LÁPICES.  
 ¿CUÁNTOS LÁPICES HAY  
 EN LA CAJA?



# NOVIEMBRE