

TABLERO DE SELECCIÓN DE FAMILIAS DE 5º GRADO

MORFOLOGÍA

RAÍZ GRIEGA

TELE =LEJOS DE: DISTANTE

RAÍZ LATINA

SCRIB = ESCRIBIR

PIENSA EN TODAS LAS PALABRAS
QUE PUEDAS QUE TENGAN ESTA
RAÍZ

EX: TELESCOPIO

FLUIDEZ

LEE EL POEMA EN LÍNEA

LA BATALLA DE
MEDIANOCHE DE UN GATO

LEE EL POEMA EN VOZ ALTA
A LOS MIEMBROS DE LA
FAMILIA.

VOCABULARIO

ESCUCHAR

"ESTOY AGRADECIDO"

ENLAZADO AQUÍ

ESCUCHE LAS

PALABRAS INTERESANTES

EJ:

RECETA

ENCUENTRA 2 MÁS!

COMPRENSIÓN

READ THE PASSAGE

"DANDO GRACIAS AL REDEDOR
DEL MUNDO"

¿CUÁL ES LA IDEA PRINCIPAL DEL
ARTÍCULO?
¿QUÉ ES LO QUE TIENEN EN COMÚN
TODAS ESTAS TRADICIONES DE
ACCIÓN DE GRACIAS?

INVESTIGACIÓN

4 DE NOVIEMBRE DE 1922


SE DESCUBRE LA TUMBA DEL REY
TUT

6 DE NOVIEMBRE DE 1860

ABRAHAM LINCOLN FUE ELEGIDO
PRESIDENTE.

INVESTIGAR EN LA
BIBLIOTECA O EN LÍNEA
SOBRE EL REY TUT O ABRAHAM
LINCOLN

NOVIEMBRE




TABLERO DE SELECCIÓN DE FAMILIAS DE 5º GRADO

MATEMÁTICAS

VALOR POSICIONAL

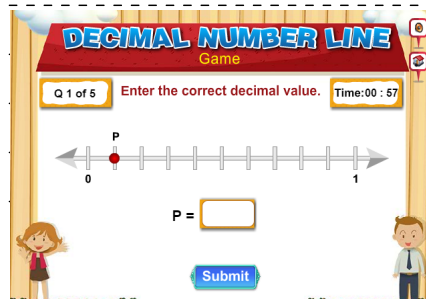
- NECESITAS UN JUEGO DE CARTAS -
- {QUITAR 10S, JACKS, QUEENS & KINGS} Y
- UN OBJETO REDONDO.



REPARTÉ A CADA JUGADOR 3 CARTAS. LOS JUGADORES UTILIZAN LAS CARTAS PARA CREAR EL MAYOR NÚMERO DE 3 DÍGITOS POSIBLE. LOS JUGADORES MUESTRAN SUS CARTAS Y EL QUE TENGA EL MAYOR NÚMERO SE LLEVA TODAS LAS CARTAS.

JUEGOS

- JUEGA A ESTE JUEGO EN LINEA
- PARA PRACTICAR LA
- IDENTIFICACIÓN DE DECIMALES
- EN UNA RECTA NUMÉRICA.



SOLUCIÓN DE PROBLEMAS

KRISTIN BEBE 0,5 LITROS DE JUGO DE NARANJA CON EL DESAYUNO CADA DÍA.

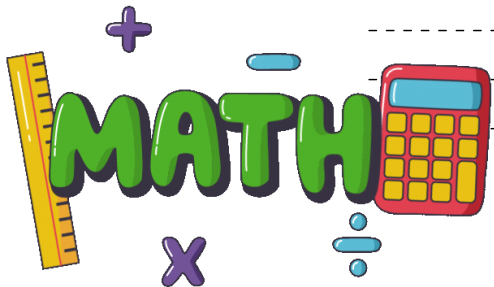
¿CUÁNTOS LITROS DE JUGO DE NARANJA BEBE KRISTIN EN 15 DÍAS?

ECUACIÓN DE NÚMEROS

$$754 \div 13 =$$


$$1,426 \div 46 =$$

$$21,6 \div 4 =$$



MATEMÁTICAS ALREDEDOR NUESTRO

MIRA ESTA CAJA DE LÁPICES.



TU MAESTRO TOMA ESTA CAJA DE LÁPICES Y LOS COLOCA EN 12 GRUPOS DE 15 LÁPICES. ¿CUÁNTOS LÁPICES HAY EN LA CAJA?



NOVIEMBRE